

1学期の復習

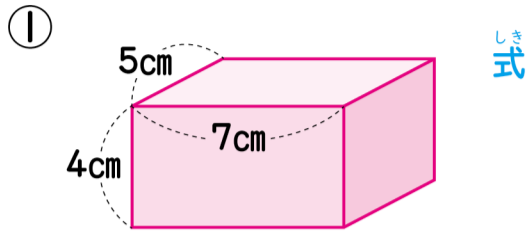
なまえ

くみ組

ばん番

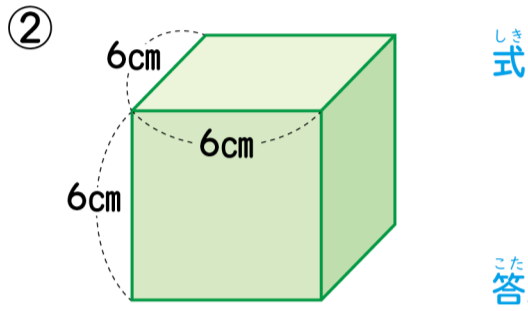


1 つぎのちくほうたいやりっぽうたいのたいせきは何 cm^3 ですか。
式5点・答え5点[20]



しき式

こたえ ()



しき式

こたえ ()

2 けいさん計算をしましょう。
1つ5点[20]

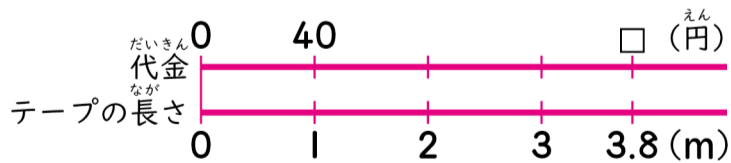
①
$$\begin{array}{r} 4.7 \\ \times 6.5 \\ \hline \end{array}$$

②
$$\begin{array}{r} 7.16 \\ \times 2.8 \\ \hline \end{array}$$

③
$$\begin{array}{r} 0.62 \\ \times 1.3 \\ \hline \end{array}$$

④
$$\begin{array}{r} 0.4 \\ \times 0.5 \\ \hline \end{array}$$

3 1mのねだんが40 円 のテープを3.8m買います。代金はなん 円 になりますか。
式10点・答え10点[20]



しき式

こたえ ()

4 けいさん計算をしましょう。
1つ5点[20]

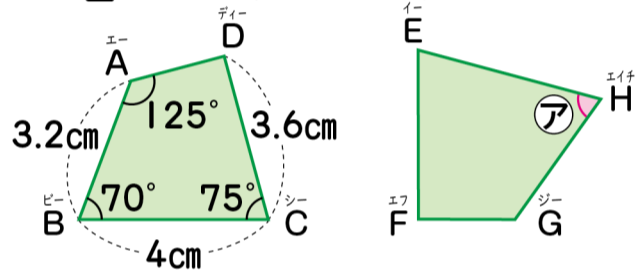
①
$$3.6 \overline{) 7.56}$$

②
$$1.4 \overline{) 9.1}$$

③
$$4.3 \overline{) 17.2}$$

④
$$6.4 \overline{) 1.6}$$

5 したの2つの四角形は合同です。
1つ5点[20]



① 頂点Dに対応する頂点はどれですか。 ()

② 辺BCに対応する辺はどれですか。 ()

③ 辺EFの長さは何 cm ですか。 ()

④ アの角の大きさは何度ですか。 ()

↓ けいさん計算らんとして使いましょう。